

1 / 2 4 柏中定期テスト対策

01301001 PAT先生用



PAT 共育ゼミナール

[02-05-01-01-4001]

1 江戸幕府の成立について、次の文を読み、あとの問いに答えなさい。

秀吉の死後、勢力を拡大した(①)は(②)の戦いで石田三成らを破り、1603年に⑦江戸幕府を開いた。幕府は④大名の配置には十分配慮し、朝廷や公家 寺社に対しても統制を行った。対外的には、当初積極的に貿易をすすめたため、(③)を持った朱印船が東南アジアへと出向いて(④)町もつくられた。しかし、その後は⑨禁教政策を強め、1639年には(⑤)の状態に入った。このようなしくみは、3代将軍(⑥)のころに完成した。

(⑤)体制下では、オランダと中国のみが長崎の(⑦)での貿易を許され、そのほかは⑩朝鮮 琉球 蝦夷地との交易があるだけであった。一方国内では、(⑧) 百姓 町人という3つの身分が確立し、その中にも細かい区分があった。とりわけ百姓には⑪さまざまな規制が加えられた。

(1) 文中の()にあてはまる語句を答えなさい。

(2) 下線部⑦について、次の問いに答えなさい。

- ① 将軍のすぐ下におかれた、政治を統括する常職を何とといいますか。
- ② 将軍直属の家臣を何とといいますか。2つ答えなさい。
- ③ 幕府の直轄地を何とといいますか。また、それにあてはまらないものを下から1つ選び、記号で答えなさい。

あ 奈良 い 長崎 う 京都 え 金沢 お 大阪

(3) 下線部④は、何万石以上の領地を与えられていましたか。また、彼らを取りしめるための法律を何とといいますか。

(4) 下線部⑨について、そのきっかけとなったできごとと、その中心人物を答えなさい。

(5) 下線部⑩について、①朝鮮、②琉球、③蝦夷地と関係の深い藩をそれぞれ下から選んで書きなさい。

松前藩 対馬藩 薩摩藩

(6) 下線部⑪について、数軒で組をつくり、年貢の納入や逃亡 犯罪などに連帯責任を負わせる制度を何とといいますか。

(1)

①	②	③
④	⑤	⑥
⑦	⑧	



(2)

①	②	③
---	---	---



(3)

--



(4)

--



(5)

①	②	③
---	---	---



(6)

--



1 / 2 4 柏中定期テスト対策

PAT 共育ゼミナール

[02-05-01-01-3004]

2 次の文を読み、あとの問いに答えなさい。

秀吉の死後も豊臣氏をもり立てようとする石田三成らと、関東の大名である徳川家康が対立して1600年に(①)がおきた。この戦いに勝った家康は、1603年に(②)に任命されて、江戸幕府を開いた。そして、1615年には(③)で豊臣氏をほろぼした。さらに同年、幕府は「もっぱら、文武弓馬の道にはげむこと」などをもりこんだ(④)を定め、約260年間続いた体制の基礎を固めた。

また、3代将軍(⑤)は(⑥)年に鎖国を完成させた。

- (1) 文中の()にあてはまる語句や数字を答えなさい。
- (2) 下線部アについて、次の問いに答えなさい。
- ① 幕府と藩が、全国の土地と人民をおさめる政治のしくみを何といいますか。
 - ② 幕府の直轄地は約400万石ありました。この直轄地を何といいますか。漢字で答えなさい。
 - ③ 幕府は秀吉の身分制を引きついで、人々の身分を大きく3つに分けました。3つの身分をすべて答えなさい。
 - ④ ③のほかにおかれ、生活の全般において差別された身分を何といいますか。
 - ⑤ 幕府のキリスト教に対するあつかいとして、まちがっているものを下から1つ選び、記号で答えなさい。
 - a 貿易の利益を考え、はじめは黙認した。
 - b 島原 天草一揆以降、禁教を少しゆるめ、同じような一揆がおこるのを防いだ。
 - c すべての人をどこかの寺に所属させる、寺請制度を行った。
- (3) 下線部イはだれに対して出されたものですか。下から選んで書きなさい。
- | | | | |
|-----|----|----|----|
| 御家人 | 公家 | 大名 | 百姓 |
|-----|----|----|----|
- (4) 下線部ウについて、次の問いに答えなさい。
- ① 3代将軍が定めたもので、大名を1年おきに江戸と領国に住まわせる制度を何といいますか。
 - ② ①の制度を定めた幕府のねらいをかんたんに説明しなさい。
- (5) 下線部エについて、次の問いに答えなさい。
- ① エの後も幕府が貿易を行った国を2つ答えなさい。
 - ② 貿易を行う港はある港に限られました。ある港とはどこですか。

(1)

①	②	③
④	⑤	⑥



(2)

①	②	③
④	⑤	



(3)

	 020501013004031
--	---------------------

(4)

①	 020501013004041
---	---------------------

(5)

②	 020501013004042
---	---------------------

1 / 2 4 柏中定期テスト対策

P A T 共 育 ゼ ミ ナ ー ル

2

(5)

①	②
---	---



[02-05-01-23-1003]

3

江戸時代初期の貿易について、次の問いに答えなさい。

- ① 家康は、大名や大商人に許可状を与えて海外への渡航を許し、貿易をすすめました。この許可状を何とといいますか。
- ② ①のような貿易を何とといいますか。
- ③ 東南アジアの各地に、日本人が移住してつくった町を何とといいますか。

①	②	③
---	---	---

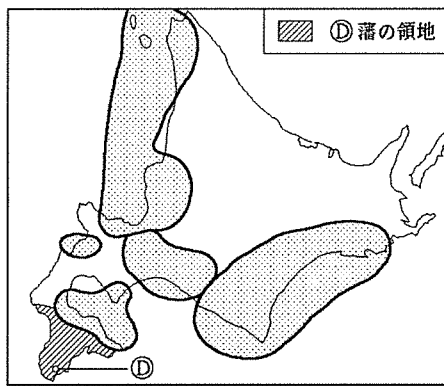
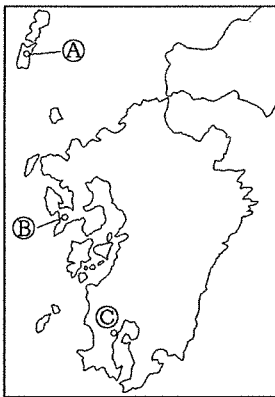


[02-05-01-25-2001]

4

下の地図は、17世紀の九州と北海道を示しています。これを見て、あとの問いに答えなさい。

- (1) 地図中A, C, Dの土地をおさめていた藩をそれぞれ答えなさい。
- (2) A藩は、秀吉の時代以来断絶していた、ある国との国交回復の仲立ちをしました。
 - ① ある国とはどこですか。
 - ② ①の国から日本に来た慶賀の使節を何とといいますか。
- (3) Bに入港することを許されていた国を答えなさい。
- (4) C藩が征服した、中継貿易で栄えていた国はどこですか。
- (5) 地図中Dは、北海道の先住民族の生活領域を示しています。
 - ① この先住民族を何とといいますか。
 - ② 1669年、①の中心となってD藩に抵抗した人物はだれですか。



(1)

A	C	D
---	---	---



(2)

①	②
---	---



(3)

--



(4)

--



(5)

①	②
---	---



1 / 2 4 柏中定期テスト対策

P A T 共 育 ゼ ミ ナ ー ル

[02-05-01-27-2005]

5 江戸時代の百姓と町人の暮らしについて、次の(1)、(2)の文を読み、あとの問いに答えなさい。

- (1) 幕府が百姓に年貢を確実に納めさせるため、さまざまなきまりを定めて百姓を統制し、年貢を確保しようとしたのはなぜですか。かんたんに説明しなさい。
- (2) 農村では⑦村役人によって村政が運営されていた。また、①百姓たちは5～6戸ごとにまとめられ、年貢の納入や犯罪の防止などの連帯責任を負った。

- ① 下線部⑦を構成する3つの役職をすべて答えなさい。
- ② 下線部①の制度を何といますか。

(1)



(2)

①



②



[02-05-02-02-4003]

6 産業の発達と元禄文化について、右の図を見て、あとの問いに答えなさい。

(1) 地図中A、Bの航路は東北 北陸地方の年貢や、物資を輸送するために開かれました。

- ① Aの航路で使われていたのはどのような船ですか。
- ② Aの航路を何といますか。
- ③ このような航路ぞいなどに栄えた町を何といますか。

(2) 地図中①～⑤は五街道で、要所には関所が設けられました。

- ① 地図中の■では特に「入鉄砲に出女」を取りしまりました。これはどこの関所ですか。
- ② 地図中の④街道の終点には、徳川家康をまつた建物があります。それは何ですか。
- ③ 地図中の⑤街道よりさらに北の地をめぐり、俳諧を大成したのはだれですか。また、その道中をえがいた作品名を答えなさい。
- ④ このような街道ぞいの本陣 旅籠などを中心に栄えた町を何といますか。

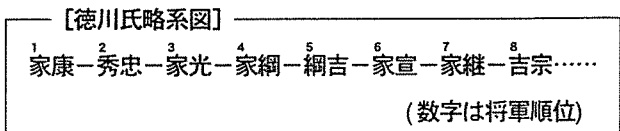
(3) 地図中あ～うは主な鉱山を示しています。①金、②銀、③銅の産地をそれぞれ選び、記号で答えなさい。

(4) 次の各文は、地図中の都市a～dのうち、どれについて説明したものですか。

- ① いわし漁がさかんに行われていた。
- ② ここの藩主である徳川光圀が「大日本史」を編さんした。
- ③ この町の町人である井原西鶴が浮世草子を書いた。

(5) 右の徳川氏の系図を見て、次の問いに答えなさい。

- ① 5代将軍綱吉が出した極端な動物愛護令を何といますか。



- ② 8代将軍吉宗が定めた、裁判や刑罰の基準となる法律を何といますか。

1 / 2 4 柏中定期テスト対策

P A T 共 育 ゼ ミ ナ ー ル

6

(1)

①	②	③
---	---	---



020502024003011

(2)

①	②	③
④		



020502024003021

(3)

①	②	③
---	---	---



020502024003031

(4)

①	②	③
---	---	---



020502024003041

(5)

①	②
---	---



020502024003051

[02-05-02-23-1001]

7

次の問いに答えなさい。

- ① 仏教にかわる学問として、江戸幕府が重んじたものは何ですか。
- ② 人形浄瑠璃で、義理と人情の世界を生きる男女の悲劇をえがいたのはだれですか。
- ③ 17世紀末から18世紀の初めにかけて、上方を中心にはやった町人文化を何といいますか。
- ④ 浮世草子と呼ばれる小説を書き、主な作品に「日本永代蔵」などがある作家はだれですか。

①	②	③
④		



020502231001011

[02-05-02-25-2001]

8

次の文を読み、あとの問いに答えなさい。

8代将軍となった(①)は幕府政治を立て直すためにA改革をはじめた。まず、武士に対して質素 (②)をすすめて、武芸を奨励した。また、財政を立て直しのために(③)を開発し、豊作 不作に関係なく一定の年貢を納めさせた。(①)はその他にも広く人々の意見を求めるために(④)を設けたり、裁判の基準となる(⑤)という法律をつくったりした。

- (1) 文中の()にあてはまる語句を答えなさい。
- (2) 下線部Aの改革を何といいますか。
- (3) (①)は、だれの政治を理想としましたか。
- (4) このころの社会のようすについて説明した次の各文のうち、正しいものには○を、まちがっているものには×をつけなさい。
 - ① 幕府の財政は立ち直すことはなく、ずっとかたむいたままであった。
 - ② 農村では天災が重なり、ききんがおこった。
 - ③ 百姓の生活は苦しく、そのため百姓一揆がしだいに増えてきた。
 - ④ 8代将軍の改革が成功したおかげで、百姓のくらしは豊かになった。
 - ⑤ 諸藩の財政は苦しく商人から借金をしていた。
 - ⑥ 才能のある武士が上級の役人にとり立てられた。

1 / 2 4 柏中定期テスト対策

P A T 共 育 ゼ ミ ナ ー ル

8 (1)

①	②	③
④	⑤	

020502252001011

(2) (3)

	020502252001021	
--	-----------------	--

020502252001031

(4)

①	②	③
④	⑤	⑥

020502252001041

[02-05-03-01-4001]

9 ゆらぐ幕藩体制について、次の文を読み、あとの問いに答えなさい。

江戸時代の中ごろになると、⑦商品作物の栽培がさかんになった。そのうえ⑧問屋制家内工業や、のちには⑨(①)工業(マニファクチュア)も行われるようになったため、農村に(②)経済が浸透して自給自足のしくみがくずれていった。また、百姓間の貧富の差もますます広がった。貧しい百姓は(③)をおこし、都市でも米の買いしめを行う商人に対して(④)がおこった。このころ政治を行った(⑤)は、新田や蝦夷地の開発を計画し長崎貿易を奨励したが、商人の(⑥)の承認などによって政治が乱れ、⑩その職を追われた。これにかわって政治を行った(⑦)は、質素 儉約を旨とする⑪寛政の改革を行ったが、きびしすぎて実情にあわず、これもうまくいかなかった。

学問では漢訳洋書の輸入規制の緩和によって⑫蘭学がはじまる一方、日本古来の考え方を見直す(⑧)がおこった。文化では(⑨)を中心に⑬化政文化が栄えた。

- (1) 文中の()にあてはまる語句を答えなさい。
- (2) 下線部⑦について、代表的なものを3つ答えなさい。
- (3) 下線部⑧の説明として正しいものを下から1つ選び、記号で答えなさい。
 あ ベルトコンベアを使って流れ作業で製品を作っていく生産形態。
 い 問屋商人が農民に原料 器具を貸し与え、製品を買い上げる生産形態。
 う 労働者を1か所に集め、分業 協業で生産を行う形態。
- (4) 下線部⑨の説明として正しいものを(3)のあ～うから1つ選び、記号で答えなさい。
- (5) 下線部⑩は、何という役職ですか。
- (6) 下線部⑪について、昌平坂学問所では何という学問を教えるように決められましたか。
- (7) 下線部⑫について、次の問いに答えなさい。
 ① 前野良沢、杉田玄白らが出版した医学書を何といいますか。
 ② 全国を測量し、日本で初めて正確な地図をつくったのはだれですか。
- (8) 下線部⑬と関係があるものを下からすべて選び、記号で答えなさい。
 あ 小林一茶 い 松尾芭蕉 う 喜多川歌麿 え 尾形光琳
 お 「東海道中膝栗毛」 か 「南総里見八犬伝」 き 「曾根崎心中」 く 寺子屋

1 / 2 4 柏中定期テスト対策

PAT共育ゼミナール

9

(1)

①	②	③
④	⑤	⑥
⑦	⑧	⑨

020503014001011

(2)

--

020503014001021

(3)

--

020503014001031

(4)

--

020503014001041

(5)

--

020503014001051

(6)

--

020503014001061

(7)

①	②
---	---

020503014001071

(8)

--

020503014001081

[02-05-03-22-2004]

10 次の歌をよみ、あとの問いに答えなさい。

「白河の清きに魚のすみかねて もとの濁りの田沼こひしき」

- (1) 上の歌は何という政治を風刺したものですか。
- (2) (1)を行った人物はだれですか。
- (3) (1)の内容について正しく説明した文を次からすべて選び、記号で答えなさい。

- ア ききんに備えてさつまいもの栽培を広めた。
- イ 幕府の学校で朱子学以外の講義を行うことを禁じた。
- ウ 旗本や御家人の生活難を救うため、借金を帳消しにした。
- エ 農民の都市へへの出かせぎを禁止して、村へもどそうとした。
- オ 参勤交代をゆるめて、そのかわりに大名に米を差し出させた。

- (4) 下線部が示している人物名と、その役職名を答えなさい。
- (5) (4)の人物が行った政治について述べた、次の文の()にあてはまる語句を下から選んで書きなさい。

彼は幕府の財政を立て直すために(①)の力を利用することを考え、(②)を積極的に公認してかわりに税金をおさめさせた。また、(①)に資金を出させて(③) 手賀沼の干拓をはじめたり、(④)の開発を計画したりした。一方、(⑤)では銅や(⑥)の輸出を奨励した。この政治は一部の(①)と結びついて(⑦)がさかんになったため、民衆は強い不満を持った。やがて(⑧)がおこり、百姓一揆や(⑨)がはげしくなるなかで彼は失脚した。

蝦夷地	海産物	商人	打ちこわし	天明のききん	株仲間
生糸	わいろ	大名	印旛沼	長崎貿易	天保のききん

1 / 2 4 柏中定期テスト対策

PAT 共育ゼミナール

9

(1)

①	②	③
④	⑤	⑥
⑦	⑧	⑨

020503014001011

(2)

--

020503014001021

(3)

--

020503014001031

(4)

--

020503014001041

(5)

--

020503014001051

(6)

--

020503014001061

(7)

①	②
---	---

020503014001071

(8)

--

020503014001081

[02-05-03-22-2004]

10

次の歌をよみ、あとの問いに答えなさい。

「白河の清きに魚のすみかねて もとの濁りの田沼こひしき」

- (1) 上の歌は何という政治を風刺したものでですか。
- (2) (1)を行った人物はだれですか。
- (3) (1)の内容について正しく説明した文を次からすべて選び、記号で答えなさい。
 - ア ききんに備えてさつまいもの栽培を広めた。
 - イ 幕府の学校で朱子学以外の講義を行うことを禁じた。
 - ウ 旗本や御家人の生活難を救うため、借金を帳消しにした。
 - エ 農民の都市への出かせぎを禁止して、村へもどそうとした。
 - オ 参勤交代をゆるめて、そのかわりに大名に米を差し出させた。

(4) 下線部が示している人物名と、その役職名を答えなさい。

(5) (4)の人物が行った政治について述べた、次の文の()にあてはまる語句を下から選んで書きなさい。

彼は幕府の財政を立て直すために(①)の力を利用することを考え、(②)を積極的に公認してかわりに税金をおさめさせた。また、(①)に資金を出させて(③) 手賀沼の干拓をはじめたり、(④)の開発を計画したりした。一方、(⑤)では銅や(⑥)の輸出を奨励した。この政治は一部の(①)と結びついて(⑦)がさかんになったため、民衆は強い不満を持った。やがて(⑧)がおこり、百姓一揆や(⑨)がはげしくなるなかで彼は失脚した。

蝦夷地	海産物	商人	打ちこわし	天明のききん	株仲間
生糸	わいろ	大名	いんげんぬま 印旛沼	長崎貿易	天保のききん

1 / 2 4 柏中定期テスト対策

P A T 共 育 ゼ ミ ナ ー ル

10

(1)



(2)



(3)



(4)



(5)

①	②	③
④	⑤	⑥
⑦	⑧	⑨



[02-05-03-23-1003]

11

江戸時代の新しい学問について、次の問いに答えなさい。

- ① 儒教や仏教の影響を受ける以前の、日本固有の文化を明らかにしようとする学問を何といいますか。
- ② 「古事記伝」を著し、①を大成した人物はだれですか。
- ③ 当時、オランダから伝わった新しい学問を何といいますか。
- ④ 前野良沢とともにオランダ語の人体解剖書を翻訳し、「解体新書」として出版した人物はだれですか。

①	②	③
④		



1 / 2 4 柏中定期テスト対策

PAT 共育ゼミナール

[02-06-01-01-4003]

12 市民革命について、次の史料を見て、あとの問いに答えなさい。

A すべての人は平等で、生命、自由、幸福追求の権利を持っている。人民はこれらの権利を侵すような政府をやめさせ、新しい政府をつくることができる。

B 人は、生まれながらにして自由で平等である。あらゆる主権は国民にある。

C 国王は、議会の承認なしに法律の停止や課税を行ってはならない。

(1) Aは、アメリカで発表されたものです。次の問いに答えなさい。

① この史料を何といいますか。

② これに関係する戦いの総司令官はだれですか。

③ Aのあと、合衆国憲法ではモンテスキューが著書「法の精神」で唱えた政治のしくみを採用しました。そのしくみは何ですか。

(2) Bは、フランスで発表されたものです。次の問いに答えなさい。

① この国で絶対王政の最盛期を築き、ベルサイユ宮殿を建てた人物はだれですか。

② フランス革命によって特権が廃止された身分を1つ答えなさい。

③ 農民や商工業者の支持を得て皇帝になった人物はだれですか。

(3) Cは、イギリスで出されたものです。次の問いに答えなさい。

① この史料を何といいますか。

② Cが出される以前にイギリスは共和政となったことがありました。これは、何年の何という事件によりますか。

③ ②の指導者で、その後厳しい政治を行った人物はだれですか。

(4) A～Cの史料を年代の古い順にならべかえ、記号で答えなさい。

(5) A～Cに見られるような市民革命の背景には、市民階級の成長があげられます。市民階級に多かったカルバン派の信者を、イギリスでは特に何といいましたか。

(6) このころに広まった、旧制度を批判して人間の解放を説く考え方を何といいますか。

(1) ① [] ② [] ③ []



(2) ① [] ② [] ③ []



(3) ① [] ② [] ③ []



(4) [] → [] → []



(5) []



(6) []



OK

1 / 24 柏中定期テスト対策

PAT共育ゼミナール

- 1 (1) ① 徳川家康 ② 関ヶ原 ③ 朱印状 ④ 日本 ⑤ 鎖国 ⑥ (徳川)家光 ⑦ 出島 ⑧ 武士 [02-05-01-01-4001]
 (2) ① 老中 ② 旗本, 御家人 ③ 天領(幕領, 幕府領), え (3) 1万石, 武家諸法度
 (4) 島原 天草(の)一揆, 天草四郎(または, 益田時貞) (5) ① 対馬藩 ② 薩摩藩 ③ 松前藩 (6) 五人組

- 2 (1) ① 関ヶ原の戦い ② 征夷大將軍 ③ 大阪の陣 ④ 武家諸法度 ⑤ (徳川)家光 ⑥ 1639 [02-05-01-01-3004]
 (2) ① 幕藩体制 ② 天領(幕領, 幕府領) ③ 武士 百姓 町人 ④ えた ひにん ⑤ b (3) 大名
 (4) ① 参勤交代(制) ② [例] 藩の出費を増やし, 大名の力をおさえるため。
 (5) ① オランダ, 清(または, 中国) ② 長崎

[解説] (1)① 「天下分け目の戦い」といわれるが, 1日で決着がついた。

(2)⑤ a…徳川家康は正式な貿易船に朱印状を発行し, 朱印船貿易をすすめた。貿易の利益を考え, はじめはキリスト教を黙認していたが, キリスト教の教えが幕府の考えに反していたことから, キリスト教を弾圧するようになった。

b, c…島原 天草一揆以降, キリスト教の取りしまりをいっそう強化した。

(3) 幕府の許可なく城を修築したり, 結婚したりすることを禁じた。公家に対しては禁中並公家諸法度を出した。

(4) 1635年に武家諸法度に追加され, 制度化された。

(5)① オランダはキリスト教の布教をしなかったため, 日本との貿易を許された。

- 3 ① 朱印状 ② 朱印船貿易 ③ 日本町 [02-05-01-23-1003]

[解説] ② ルソン(フィリピン), 安南(ベトナム), シャム(タイ), カンボジア, ボルネオ島などに渡航した。

③ タイのアユタヤ, カンボジアのプノンペンなどにあった。

- 4 (1) ① 朝鮮 ② (朝鮮)通信使 [02-05-01-25-2001]

- (2) ① 朝鮮 ② (朝鮮)通信使
 (3) 中国(または, 清) オランダ (4) 琉球(王国) (5) ① アイヌ(民族) ② シャクシャイン

[解説] (2)① 豊臣秀吉による朝鮮侵略以来, 国交が断絶していたが, 対馬藩宋氏の努力によって国交が回復した。

② 将軍がかわるごとに, 慶賀の使節が訪れた。

(3) ヨーロッパの国々の中で, キリスト教の布教を行わないオランダだけが日本との貿易を許された。しかし, その窓口は長崎の出島に限られた。

(4) 琉球王国は, 薩摩藩の管理のもとで中国とも朝貢貿易を行っていた。

(5)② 松前藩とアイヌとの交易は, アイヌに不利なものであったため, シャクシャインがアイヌを指導して反乱をおこした。しかし, 松前藩に敗れ, さらに厳しく支配されるようになった。

- 5 (1) [例] 百姓の納める年貢によって幕府や武士の生活が支えられていたため。 [02-05-01-27-2005]

- (2) ① 庄屋(または, 名主), 組頭, 百姓代 ② 五人組

[解説] (2)① 土地を持ち, 年貢を納める義務を持つ本百姓から選ばれた。

- 6 (1) ① 北前船 ② 西廻り航路 ③ 港町 (2) ① 箱根 ② 日光東照宮 ③ 松尾芭蕉, 「奥の細道」 ④ 宿場町 [02-05-02-02-4003]

- (3) ① あ ② い ③ う (4) ① b ② a ③ c

- (5) ① 生類憐みの令 ② 公事方御定書

1 / 2 4 柏中定期テスト対策

PAT共育ゼミナール

[02-05-02-23-1001]

- 7 ① 儒学(または、朱子学) ② 近松門左衛門 ③ 元禄文化 ④ 井原西鶴

[解説] ① 学問や礼節を重んじる儒学の中でも、朱子学は身分秩序を重視したことから、政治の引きしめに利用された。
③ 大阪や京都を中心とする文化。

[02-05-02-25-2001]

- 8 (1) ① 徳川吉宗 ② 倭約 ③ 新田 ④ 目安箱 ⑤ 公事方御定書 (2) 享保の改革 (3) 徳川家康

- (4) ① × ② ○ ③ ○ ④ × ⑤ ○ ⑥ ○

[解説] (4) ① 享保の改革によって破綻寸前だった幕府の財政が立ち直ったことから、吉宗は中興の祖とよばれている。
④ 豊作 不作に関係なく一定の年貢を納めることになり、不作のときは生活が厳しくなった。

[02-05-03-01-4001]

- 9 (1) ① 工場制手 ② 貨幣 ③ 百姓一揆 ④ 打ちこわし ⑤ 田沼意次 ⑥ 株仲間 ⑦ 松平定信 ⑧ 国学 ⑨ 江戸

- (2) 茶, 漆, 麻, 藍, 桑, 紅花, 楮, 綿花, 菜種などから3つ (3) い (4) う (5) 老中 (6) 朱子学
(7) ① 「解体新書」 ② 伊能忠敬 (8) あ, う, お, か, く

[02-05-03-22-2004]

- 10 (1) 寛政の改革 (2) 松平定信 (3) イ, ウ, エ (4) 田沼意次, 老中

- (5) ① 商人 ② 株仲間 ③ 印旛沼 ④ 蝦夷地 ⑤ 長崎貿易 ⑥ 海産物 ⑦ わいろ ⑧ 天明のききん
⑨ 打ちこわし

[解説] (1), (2) 「白河」は元白河藩主の松平定信をさす。
(3) ア, オは徳川吉宗の政策。
(5) ⑥ なまこ, 干しあわび, ふかひれなどを俵につめて輸出した。

[02-05-03-23-1003]

- 11 ① 国学 ② 本居宣長 ③ 蘭学 ④ 杉田玄白

[02-06-01-01-4003]

- 12 (1) ① 独立宣言 ② ワシントン ③ 三権分立

- (2) ① ルイ14世 ② 聖職者(または、僧), 貴族から1つ ③ ナポレオン
(3) ① 権利(の)章典 ② 1649年, ピューリタン革命(または、清教徒革命) ③ クロムウェル
(4) C→A→B (5) ピューリタン(または、清教徒) (6) 啓蒙思想